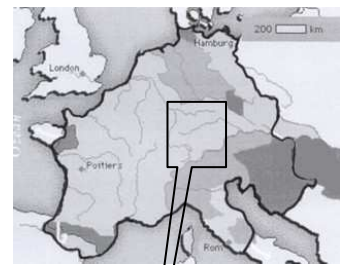


16. Aus der Geschichte der Schweiz

✂ Lehrbuch S. 228 f

1. Welches Reich zeigt die Karte 1?
2. Zu welchem Reich gehörte das Gebiet der Schweiz bis zum 10. Jahrhundert?



Karte 1

3. Welches Reich zeigt die Karte 2?
4. Zu welchem Herzogtum gehörte die Schweiz damals?



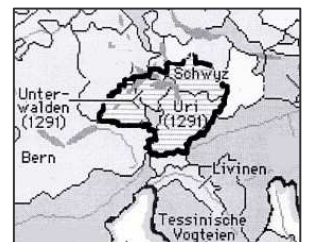
Karte 2

5. Welches Ereignis zeigt das Bild?
6. Wann war das?
7. Welche Kantone fanden sich damals zusammen?



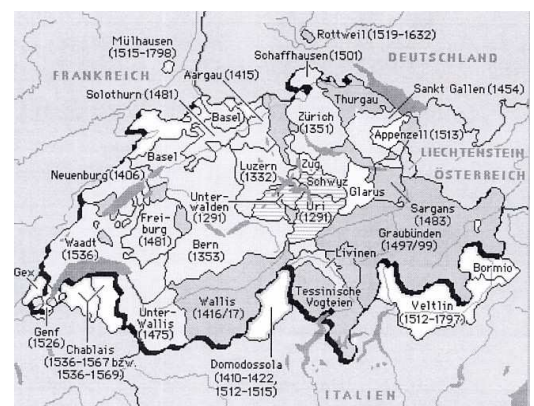
Microsoft © Encarta © Enzyklopädie Professional 2004.

8. Welche Kantone zeigt die Karte 3?



Karte 3

9. In welchem Jahr entstand die Dreizehnörtige Eidgenossenschaft?
10. In welchem Jahr entstand ein Bundesstaat mit 19 Kantonen?
11. Was zeigt die Karte 4?
12. Wann erkannten die anderen Länder die Neutralität der Eidgenossenschaft an?
13. In welchem Jahr entstand die Schweiz als Bundesstaat?



© Microsoft Corporation. Alle Rechte vorbehalten.

Karte 4